

2023 年度

サンプル問題

社 会

受験上の注意


1. 問題用紙・解答用紙には、受験番号・氏名を記入してください。
2. 解答はすべて解答用紙に記入してください。
記入の方法を誤ると得点になりません。
3. 終わりの合図とともに、解答用紙を提出してください。

芝国際中学校


1 日本と外国の貿易について述べた次の文を読んで、後の問いに答えなさい。

貿易 A	貿易 B	貿易 C
<p>①室町幕府の将軍が始めた貿易で、日本は刀剣などを輸出し、永楽通宝などの銅銭を輸入しました。この貿易は朝貢形式で行われ、【図 X】の②<u>合い札</u>が用いられました。この貿易の利益は、幕府の重要な資金源となりました。</p>	<p>③<u>キリスト教</u>の普及などをおそれた幕府が、他国との交流をきびしく制限したため、貿易は限られた場所の一部の国とのみ行いました。外国の情報は【図 Y】の場所で④<u>交易</u>を許されていた国から得ていました。</p>	<p>⑤<u>朝廷の重要な役職を独占した一族</u>は、この貿易のために大輪田泊を整備し、瀬戸内海の航路を整えたほか、海の安全を願うため【図 Z】の⑥<u>神社</u>をあつく信仰しました。この貿易の輸出品は硫黄や刀剣で、銅銭や薬品などを輸入しました。</p>

【図 X】



【図 Y】



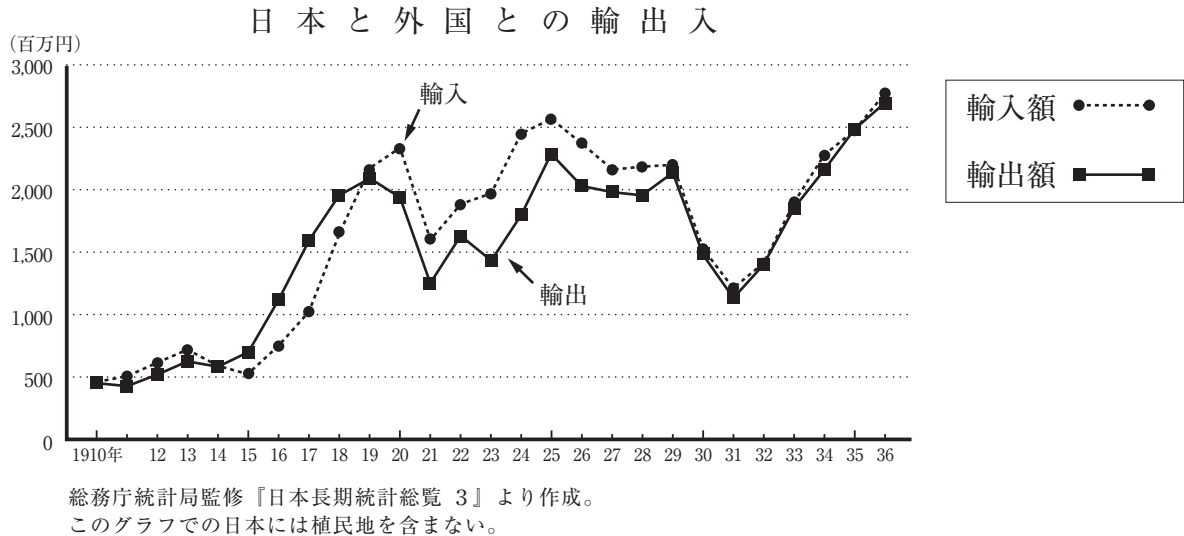
【図 Z】



- 問 1 下線①の将軍の名を漢字で答えなさい。
- 問 2 下線②について、「【図 X】の合い札」を用いた理由を 20 字以内で答えなさい。
- 問 3 下線③について、幕府はキリスト教禁止の政策をとっていましたが、九州地方には多くのキリスト教の信徒がいました。このような信徒を中心として、1637 年に城主の重税に反対した の乱がおこりました。 にあてはまることばを漢字で答えなさい。
- 問 4 下線④について、【図 Y】で交易を許されていた国として正しいものを次のア～エから 1 つ選び、記号で答えなさい。
- ア. スペイン イ. ポルトガル ウ. イギリス エ. オランダ
- 問 5 下線⑤の一族として正しいものを次のア～エから 1 つ選び、記号で答えなさい。
- ア. 平氏 イ. 源氏 ウ. 藤原氏 エ. 蘇我氏
- 問 6 下線⑥について、世界遺産にも指定されている広島県にある【図 Z】の神社の名を漢字で答えなさい。
- 問 7 貿易 A から貿易 C を、年代が古い順にならび替えなさい。

2

日本の貿易額について表した次のグラフをみて、後の問いに答えなさい。



問1 日本の輸入額より輸出額の方が上回っている時期のようすとして正しいもの次のア～エから1つ選び、記号で答えなさい。

- ア. 工場の動力が、蒸気から電気にかわりました。
イ. 貿易などで急激に大金持ちになった人たちは、財閥とよばれました。
ウ. より多くの生糸を生産するために、富岡製糸場が新たに建設されました。
エ. 陸軍の青年将校たちが反乱をおこし、東京の首相官邸などを占拠しました。

問2 1918年に発行された次の新聞記事を読んで、後の問いに答えなさい。

最近、富山県下一帯の人々の生活はたいへん貧しくなっている。…(中略)…三日午前七時ごろ中新川郡西水橋町で大きな暴動がおきた。…(中略)…夫が漁師の女性、およそ三百人が、午前七時ごろに海岸に集まって「物価が上昇している原因は米にある」とさわぎ、「私たちは餓死するしかない」と大声をあげて…(中略)…米屋をおそい、米を他に持ち出さないようにと脅迫し…(中略)…中には四日の朝まで米屋の前で様子を見張る者もいた。
(原文書き下し)

- (1) この記事にある富山県での出来事が全国へ拡大され、各地で暴動がおこりました。全国で発生した事件の名を答えなさい。
- (2) この記事の出来事がおきた前年に、ヨーロッパで革命がおこり世界で最初の社会主義政府がつくられました。このことをおそれた日本、イギリス、アメリカなどが、革命のおこった国に大軍を派遣しました。この事件を何といいますか。次のア～エから1つ選び、記号で答えなさい。
- ア. 日露戦争 イ. 開拓使官有物払下げ事件 ウ. 秩父事件 エ. シベリア出兵
- (3) 不景気になった日本では、労働争議や小作争議などの社会運動が多く発生しました。次の文は、差別に苦しんでいた人々が1922年に京都で結成した団体の宣言文の一部です。この団体の名を次のア～エから1つ選び、記号で答えなさい。

…全国に散在する部落の人々よ、団結せよ。ここにわれわれが人間を尊敬することによって、自らを解放しようとする運動を起こしたのは当然である。われわれは、心から人生の熱と光を求めるものである。…(中略)…人の世に熱あれ、人間に光あれ。

- ア. 青鞥社 イ. 全国水平社 ウ. 隣組 エ. 愛国社

3 次の文を読んで、後の問いに答えなさい。

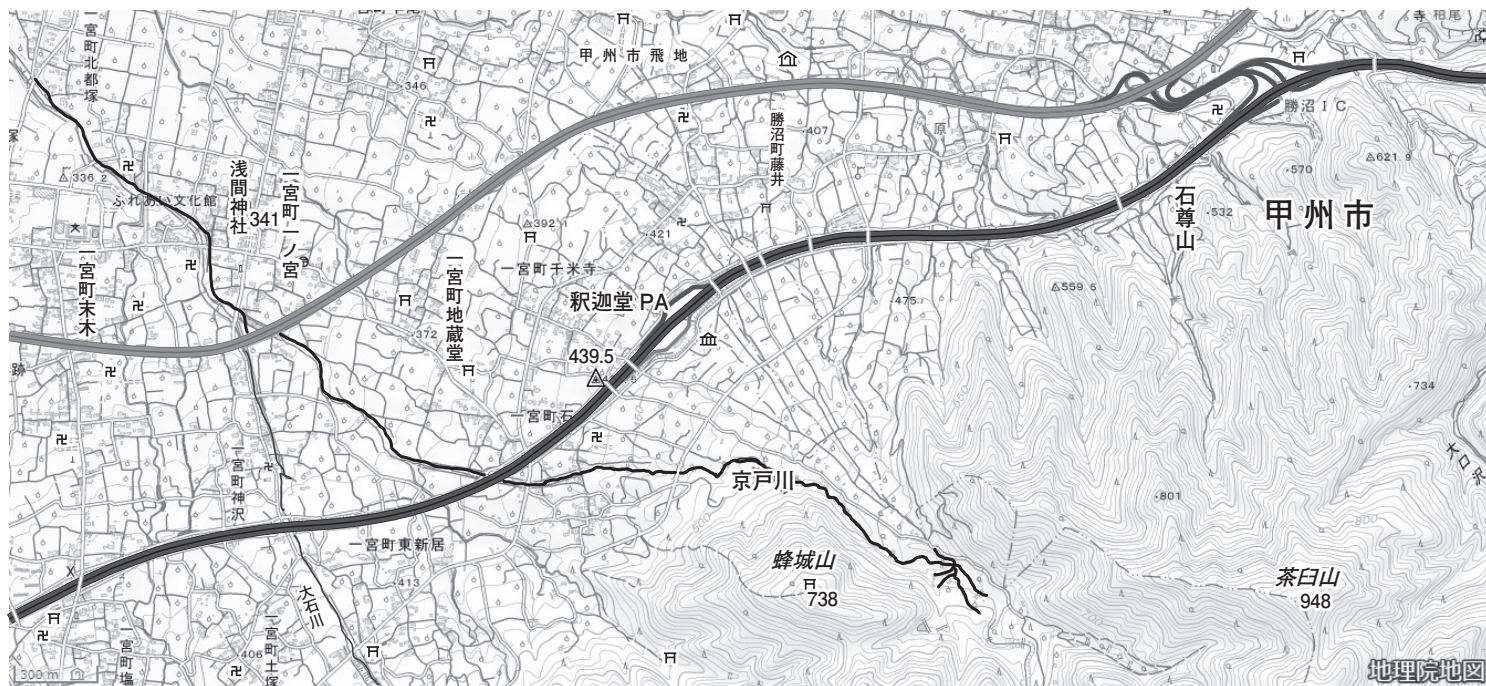
日本は豊かな自然に恵まれ、その自然からたくさんの恩恵を受けていますが、その反面として①自然災害の被害を受けることも多くあります。たとえば、火山の噴火で大きな被害となることもありますが、②火山があるからこそその恵みの一つとして温泉があり、ここに多くに人々が集まります。また、日本はさまざまな地形を形づくっています。③地形の形成は、地中からの力で形成された地形と河川や波、風などの外からの力によります。

日本は島国であるため、海岸線を利用してむかしから④漁業や貿易を行い、同時にいろいろな産業を発展させてきました。特に明治時代以降の近代化によって軽工業が発達し、さらに重工業、重化学工業へと生産の中心が変化してきました。工業の発展には資源が必要ですが、日本は「鉱物の標本室」といわれるように、⑤国内の資源だけでは工業製品を製造できないため、多くの資源を海外から輸入しています。そのため海岸部には大型船が利用できる港を多く建設して輸出入を行っています。近年は⑥内陸部でも工業製品が生産され、高速道路や空港を利用して国内・国外へと輸送をしています。

問1 下線①について、自然災害の発生時に危険から身を守るため、あらかじめ危険区域を示した地図を何といいますか。カタカナで答えなさい。

問2 下線②について、火山や自然界の力によってつくられるエネルギーは、 エネルギーとよばれています。空欄 にあてはまることばを答えなさい。また、火山活動を利用した発電方法として正しいものを次のア～エから1つ選び、記号で答えなさい。

ア. 水力発電 イ. 太陽光発電 ウ. 風力発電 エ. 地熱発電



問3 下線③について、次の地図を見て、後の問いに答えなさい。

- (1) 地図中のほぼ中央を流れている京戸川の流れは、 の方角から の方角に向かっています。空欄 ・ にあてはまる方位を八方位で答えなさい。
- (2) 地図内の情報から読み取れる内容として正しくないものを次のア～オから2つ選び、記号で答えなさい。
 - ア. 高速道路と平行する国道の北側には、老人ホームが建てられています。
 - イ. 河川が山から平地に流れ込むときにできる、三角州の地形が広がっています。
 - ウ. 浅間神社は、周辺の地名からこの地域で格式の高い神社とわかります。
 - エ. 蜂城山の山頂には、寺院が建立されています。
 - オ. 積迦堂パーキングエリアの周辺には、博物館が建てられています。
- (3) 地図にある地名が属する都道府県で生産されているくだもので、収穫量が全国1位（2020年）のくだものを次のア～オから2つ選び、記号で答えなさい。
 - ア. 日本なし イ. みかん ウ. もも エ. おうとう オ. ぶどう
- (4) 地図にある地名が属する都道府県を戦国時代に治めていた戦国大名が、隣国の戦国大名との争いに備えて、この都道府県の北側の都道府県にある寺院と同じ寺院を建立しました。建立された寺院の名を次のア～エから1つ選び、記号で答えなさい。
 - ア. 永平寺 イ. 善光寺 ウ. 東大寺 エ. 法隆寺

問4 下線④について、次の問いに答えなさい。

(1) 日本の漁港で水揚量が全国1位(2020年)の漁港を次のア～エから1つ選び、記号で答えなさい。

ア. 銚子 イ. 釧路 ウ. 境 エ. 焼津

(2) 日本の漁業種類別生産量で1位(2020年)になるものを次のア～エから1つ選び、記号で答えなさい。

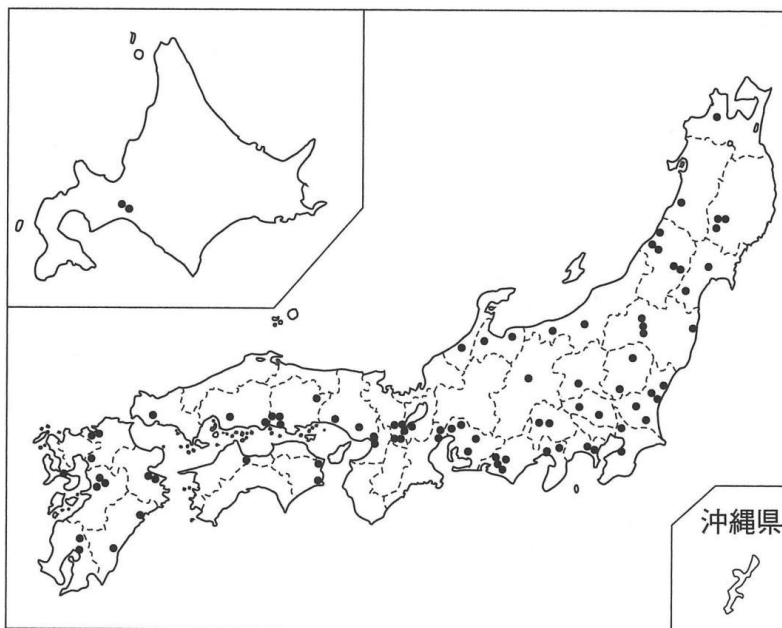
ア. 遠洋漁業 イ. 養殖業 ウ. 沿岸漁業 エ. 沖合漁業

問5 下線⑤について、日本は資源の産出量が少ないといわれていますが、近年の調査で日本近海に今後のエネルギー資源として利用価値が高いとされている資源の存在が確認されています。その資源を次のア～エから1つ選び、記号で答えなさい。

ア. シェールガス イ. ウラン ウ. メタンハイドレート エ. バイオエタノール

問6 下線⑥について、次の図は内陸部で生産している工業製品の工場の所在地を示しています。これらの工場で生産されている製品として正しいものを次のア～エから1つ選び、記号で答えなさい。

ア. 集積回路 イ. セメント ウ. 鉄鋼 エ. パルプ



4 次の文を読んで、後の問いに答えなさい。

日本国憲法は国のあり方を定めた基本的なルールで、「【①】主権」「平和主義」「基本的人権の尊重」の三原則を柱としています。

かつての大日本帝国憲法では、主権は天皇にありました。しかし太平洋戦争が終わり、新しい日本政府やGHQが中心となって、作られた日本国憲法において、主権は【①】にあるということになりました。

「②平和主義」に関しては、憲法の第9条に、決して戦争をしないこと（戦争放棄）やそのための戦力をもたないことが定められています。

三原則の最後の「基本的人権の尊重」は、人が人間らしく生きていくために、自由にものごとを考え、行動し、③差別なく平等に扱われることは侵すことのできない永久の権利として記されています。

日本国憲法は施行されて今年で75年がたち、時代に即した憲法に変えるべきだという意見と、75年間守られてきた平和憲法を変えるべきではないという意見もありますが、④国会において⑤憲法改正の発議にいたったことはありません。

問1 【①】にあてはまることばを漢字2字で答えなさい。

問2 下線②について、戦争のない平和な世界にするために、ある戦争後に国際連盟が発足されました。国際連盟発足のきっかけになった戦争を何といいますか。漢字で答えなさい。

問3 下線③について、次の文を読んで、後の問いに答えなさい。

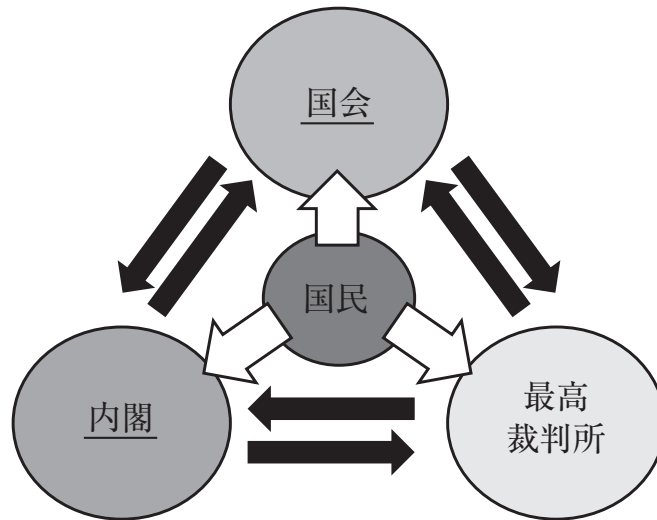
日本では1985年に「A 女子差別撤廃条約」の締結を承認しました。それにともない、1989年告示の学習指導要領において、中学校の技術・家庭科では、男子と女子で履修領域の範囲に差異を設けている扱いを改め、B 男女同一の扱いをするとともに、高等学校の家庭科は、男女ともに必修の教科とされました。

(1) 下線Aの国際条約に影響され、1985年に制定された男女の差別をなくすための法を男女 I 法といいます。空欄 I にあてはまることばを答えなさい。

(2) 下線Bのように、男女同一の扱いは憲法第14条により保障されています。性別のほかにも第14条で平等が保障されているものとして正しくないものを次のア～エから1つ選び、記号で答えなさい。

ア. 国籍 イ. 信条 ウ. 社会的身分 エ. 人種

問4 下線④について、日本の政治のしくみを示した次の図を見て、後の問いに答えなさい。



- (1) 上図は、国会、内閣、裁判所の独立した機関がお互いに力を抑さえあい、バランスを保つことにより、権力の濫用を防ぐというしくみを表しています。このしくみを何といいますか。漢字4字で答えなさい。
- (2) 国会について、日本国では衆議院と参議院の二院制をとっていますが、衆議院と参議院で同じ条件であるものを次のア～エから1つ選び、記号で答えなさい。
- ア. 被選挙権の年齢 イ. 議員定数
ウ. 解散の有無 エ. 選挙権の年齢
- (3) 内閣についての説明として正しいものを次のア～エから1つ選び、記号で答えなさい。
- ア. 主に法律の制定を行う イ. 主に政策の実行や、外交の仕事を行う
ウ. 予算の議決・決算の承認などを行う エ. 内閣総理大臣を指名する

問5 下線⑤について、憲法改正には各議院の総議員の一定数以上の賛成で国会が発議します。憲法第96条には、発議後に国民投票が行われると記載されています。次の条文の空欄 にあてはまることばを答えなさい。

…この承認には、特別の国民投票又は国会の定める選挙の際行われる投票において、その の賛成を必要とする。

5

次の文を読んで、後の問いに答えなさい。

芝国際中学校は、名前の通り港区芝の地にあります。江戸時代の芝は、現在の学校から数100 mのところの芝浜という海岸がありました。現在はオフィスビルが建ちならぶビジネス街ですが、小学校、中学校、高等学校、短大や大学などもあり、多くの生徒・学生が通学する街でもあります。

芝国際中学校は、江戸の市中の南の端にあります。江戸幕府の5代将軍のころにおきた赤穂事件で、主君の仇討ちを果たした47人の家臣を埋葬している泉岳寺の近くに、①高輪大木戸という江戸への出入りの門があります。この門を出ると江戸を離れることになり、門を入れば江戸の市中に入ることになりました。また、浄土宗の寺院の大本山増上寺があります。この寺院は、徳川家康が江戸幕府を開いたころに、徳川家の菩提寺（先祖代々の冥福を祈るお寺）となり、6人の将軍や将軍の正室などが埋葬されています。増上寺以外にも、港区には多くの寺院があります。江戸時代は、②江戸の市中にあった寺院のおよそ25%が港区にありました。また、幕末の時期になると、港区の寺院の中に③アメリカ、イギリス、フランス、オランダの公使館が設置されました。

江戸の市中は、武家屋敷がある地域、商店が集まっている地域など町割が行われていました。また、江戸市中に④河川や運河、堀割が整備されていました。

明治時代に入ると港区のある東京は、京都に代わる都となり、政治の中心地となりました。日本で⑤初めての鉄道も開通し、生活の中に西洋文化が浸透していきました。明治政府は、「富国強兵・殖産興業」をスローガンに政治制度や産業、軍隊の整備などの近代化を推進していきました。明治の中ごろから昭和の初期には数回におよぶ対外戦争を経験し、多くの国民が犠牲となりました。

太平洋戦争直後の日本の産業は低迷していましたが、朝鮮戦争をきっかけにその後の⑥高度経済成長をむかえました。港区にも大手企業の本社や多国籍企業がオフィスをかまえ、多くの外国人が居住するようになりました。時代とともに高層ビルが増加し、⑦都市型の環境問題もおこっています。また近年では、⑧ダイバーシティに関するさまざまな取り組みを港区も行っています。ダイバーシティとは、「多様性」を意味することばで、性別、国籍、年齢、障害の有無、女性の活躍などの多様な属性や個人の価値観、発想を社会生活や仕事の場に取り入れて、生産性の向上や企業の成長、社会の発展や個人の幸せな暮らしの実現をめざす考え方をいいます。港区では、2022年6月に「みなとダイバーシティフェスティバル2022」を実施しました。

このような歴史をもっている港区芝で、新しい社会に対応しながら今後の社会と世界に貢献できる生徒を育てる芝国際中学校でありたいと考えています。

問1 下線①について、1821年の記録では、当時の大名の総数が262名で、そのうち153名の大名がこの大木戸を通過していました。大名がこの大木戸を通過する理由は、当時の大名に課せられた幕府の規則があったからでした。その規則となった制度を何といいますか。

問2 下線②について、江戸の市中に寺院が多くあった理由として正しいものを次のア～エから1つ選び、記号で答えなさい。

- ア. 地方から江戸に来る人々に、江戸の街の華やかさを幕府が示したかったから。
- イ. 寺院では拝観料が徴収され、幕府は寺院に税をかけて幕府の財源としたから。
- ウ. 大名や大名の妻子、家族を埋葬するための寺院が必要だったから。
- エ. 朝廷は、江戸の市中に寺院を増やして幕府の監視をさせていたから。

問3 下線③について、これらの国の公使館ができた背景として正しいものを次のア～エから1つ選び、記号で答えなさい。

- ア. アヘン戦争がおきたから
- イ. 各国と修好通商条約を締結したから
- ウ. 各国と安全保障条約を締結したから
- エ. 天保の改革が行われたから

問4. 下線④について、下の地図を参考に河川や運河の利用方法として正しくないものを次のア～エから1つ選び、記号で答えなさい。

- ア. 飲み水の確保
- イ. 江戸城の防衛
- ウ. 荷物の運搬
- エ. 百姓一揆の防止

【江戸の川・堀割】



問5 下線⑤について、この鉄道が運行した区間として正しいものを次のア～エから1つ選び、記号で答えなさい。

- ア. 新橋－横浜
- イ. 上野－品川
- ウ. 上野－大宮
- エ. 新橋－小田原

問6 下線⑥について、この時期にあった出来事として正しくないものを次のア～エから1つ選び、記号で答えなさい。

- ア. 東京オリンピックの開催
- イ. アメリカからの沖縄の返還
- ウ. サンフランシスコ平和条約の締結
- エ. 東京・名古屋間の東海道新幹線開通

- 問7 下線⑦について、人口が集中している都市部や高層ビルの乱立する地域では、その地域の気温が、周辺の地域よりも高くなる現象を引き起こしています。このような現象を 現象といいます。空欄 にあてはまることばをカタカナで答えなさい。
- 問8 下線⑧について、本文で述べているダイバーシティの考え方として正しくないものを次のア～エから1つ選び、記号で答えなさい。
- ア. 観光案内や街中の表示に、複数の言語表記を使用しています。
 - イ. 地球環境に配慮して、駅のエレベーターの使用時間を制限しています。
 - ウ. バリアフリーの一環として、ピクトグラムでわかりやすい表示をしています。
 - エ. 企業は、育休やリモートワークなど個人の価値観や働き方を考えています。

